




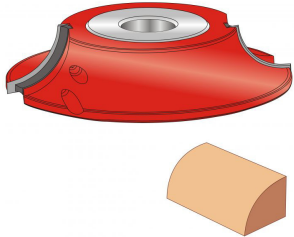


**TEST**

din oficiu 30 pct

1. Cum ati definiti “**alezajul**” frezelor monobloc: 10 pct
  - a. este partea taietoare a frezei
  - b. partea care asigura rezistenta si stabilitatea sculei
  - c. partea circulara de la freza care servește la fixarea acestuia pe axul de lucru
  - d. nici un raspuns correct
  
2. Dintre cele trei unghiuri principale, caracteristica frezei, cu  $\beta$  se noteaza  
..... 10 pct
  
3. Complectati textul de mai jos: 10 pct

Cele mai multe freze se execută cu dinți întregi, armați cu plăcuțe din .....  
sau oțeluri .....
  
4. Incercuiti care dintre enunturile de mai jos caracterizeaza capetele de frezat: 10 pct
  - a. au forma unui corp geometric la periferia căruia sunt dispuși 2-4 dinți tăietori
  - b. pot fi cu cuțite demontabile – amovibile
  - c. au un cap portfreză în care se fixează cuțitele cu ajutorul penelor de presare și șuruburilor
  - d. raspunsul **b** ci **c**
  
5. Se da tabelul de mai jos. In coloana **A** sunt desene cu freze, in coloana **B** denumiri si utilizari ale acestora. Scrieti langa numarul desenului litera denumirii corespunzatoare. 30 pct

**TABELUL PE PAGINA URMATOARE**

A. DESEN FREZE	B. DENUMIRE FREZE SI UTILIZARE
<p>1. </p>	<p>a. Capete de frezat combinate, în care se combină freze monobloc sau cuțite cu discuri circulare</p>
<p>2. </p>	<p>b. Freze cu coadă cilindrică</p>
<p>3. </p>	<p>c. Freze pentru canturi drepte</p>
<p>4. </p>	<p>d. Freze unghiulare, care se folosesc pentru prelucrarea înclinată a canturilor</p>
<p>5. </p>	<p>e. Freze profilate, care se folosesc pentru pentru canturi, folosite mai ales la mobila stil sau la mobilier rustic</p>
<p>6. </p>	<p>f. Capete de frezat cu cuțite demontabile - amovibile, care au un cap portfreză în care se fixează cuțitele cu ajutorul penelor de presare și șuruburilor</p>