

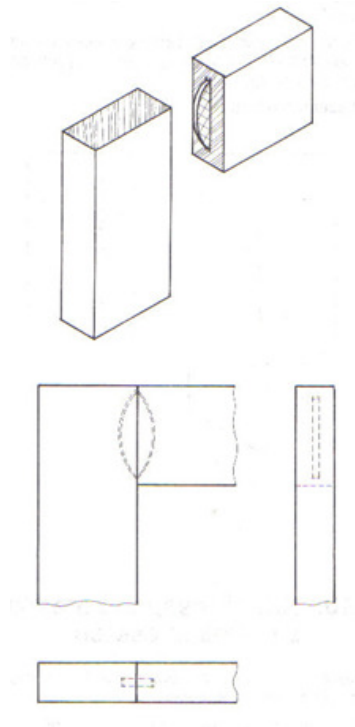
határidő: 2020.04.02**MUNKALAP****útbaigazítás:**

- az alábbi munkalapot a fent megadott határidőig kell számomra elküldeni
- a munkalap megoldása kötelező
- a munkalapok alapján fogok a félév végén osztályozni, az szerint, ki mikor küldte el nekem és hogyan oldotta meg a feladatokat
- a munkalapokon egy vagy több illesztés – csapozás van bemutatva, van ahol csak térrajz van, esetleg egyeseknél a nézetek is megvannak

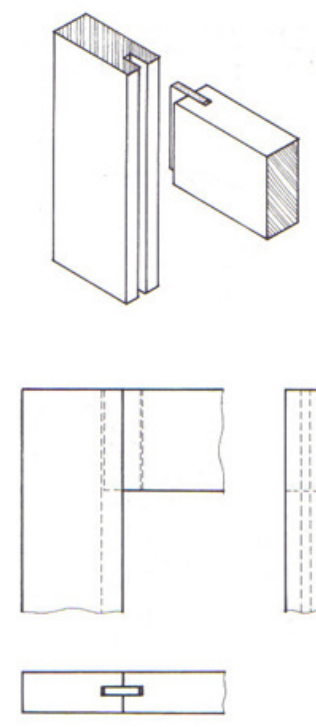
FELADATOK:

- előre az A4-es lapot megmargózzátok, szövegmezőt elkészítitek – kitöltitek: a saját nevetek, határidő dátuma, csapozás megnevezése
- egy lapra több csapozást is elkészíthetek 1 vagy 2: szemből nézet, odal nézet, felül nézet
- a nem látszó **csapot** szaggatott vonalal kell elkészíteni
- a rajzot 1:1 léptékbe készítsétek, tudva azt, hogy az összeillesztett faelemek szélessége 50 mm, vastagsága 30 mm, A többi méretet ezekkel arányosan vegyétek, hogy az elkészített rajz hasonlítson a nyomtatottra.
- a rajzot és a kitöltéseket csak ceruzával készítsétek
- a megoldás egy fehér lapra, elkészített rajz formájában kell átküldjétek
- a lapot fényképezzétek le és küldjétek el nekem **Messenger-en**,
- a szövegmezőben írjátok be a neveteket és a **határidő** dátumát
- **A TÉRBELI RAJZOKAT NEM KELL LERAJZOLNI CSAK A NÉZETEKET**

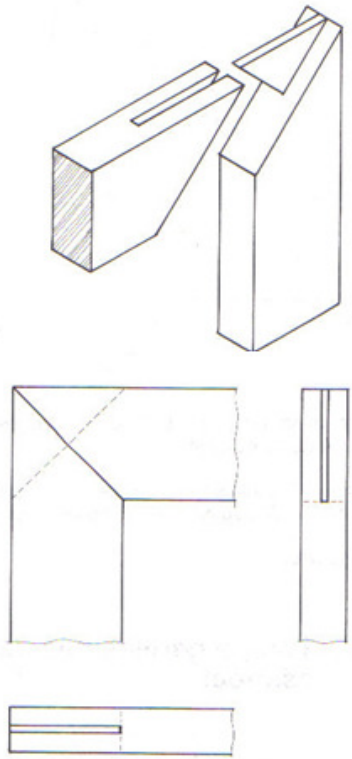
7. Lamelált keretkötés:



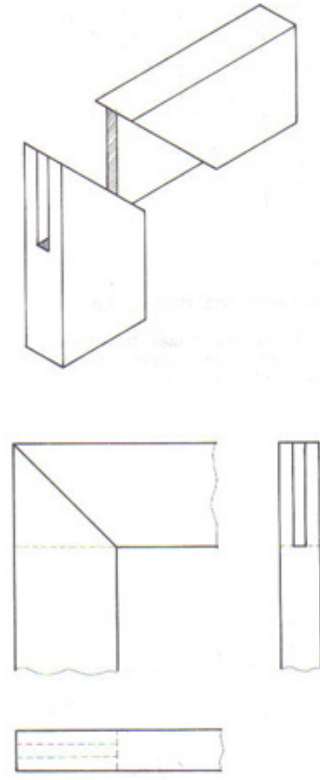
8. Idegen csappal készült keretek:



9. Tompa gérillesztés bevágott csappal:



10. Ollós csapozás mindkét oldalon 45°-os illesztéssel:



11. Szakállas vésett csapozás:

